


3. 北海道の土地の様子

北海道の地形は、どのような様子なのか調べよう



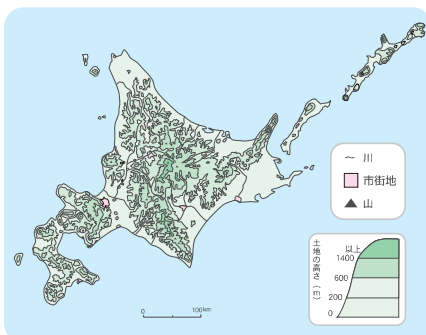
④ 大雪山系の山々/美瑛町観光協会

北海道でいちばん高いところは中央部で、そこから川が流れ出し、川の流れにそって低い平らな土地が広がっています。

また、主な都市は川ぞいや海ぞいに広がっていることがわかります。

地形

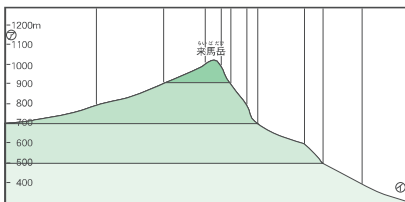
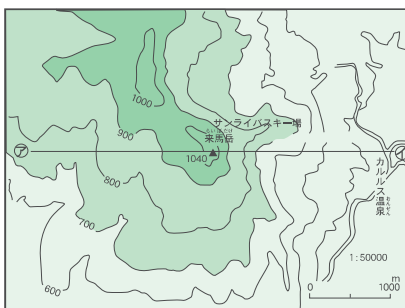
高低やかたむきをふくめた、土地の形のこと。



④ 北海道の地形のようす

等高線

- ・ 地図では、同じ高さの土地を線で結んで、表しています。この線を等高線といいます。
- ・ 高さを表す数字が書いてあることもあります。来馬岳は、1040mあることがわかります。
- ・ 等高線の間かきがせまいと土地のかたむきは急になり、等高線の間かきが広いとかたむきはゆるやかになります。



④ 土地の高さの表し方

縮尺を使って地図をみてみよう



左の地図は50000分の1の富良野市の地図です。1cmが500mで表されています。

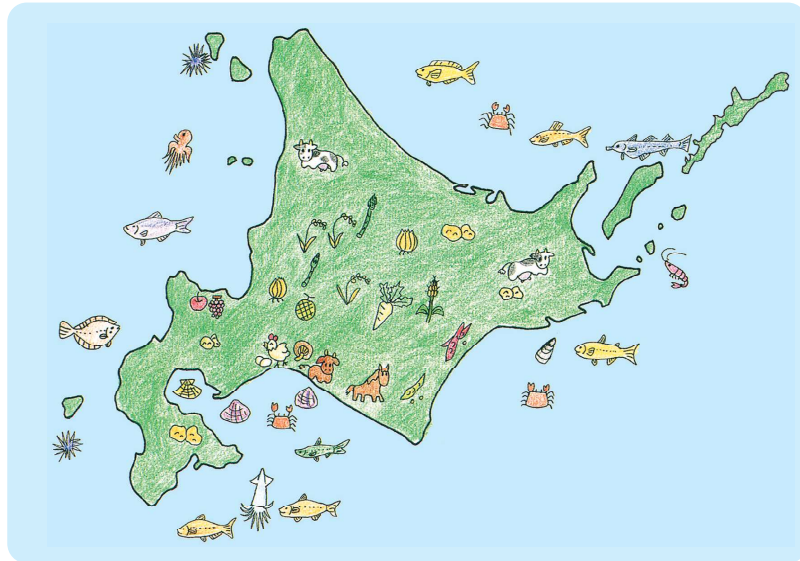
右の地図は25000分の1の富良野市の地図です。1cmが250mで表されています。

縮尺の数字が大きくなると、地図は大まかなものになり、縮尺の数字が小さくなると、地図はくわしくなります。大まかな道を調べたいときは、数字の大きな縮尺の地図を、まちの様子をくわしく調べたいときは、数字の小さな縮尺の地図を使うと便利です。

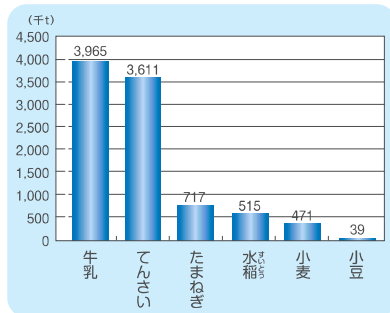
4. 北海道の農産物・水産物

北海道の農産物・水産物の産地について地図や資料で調べよう

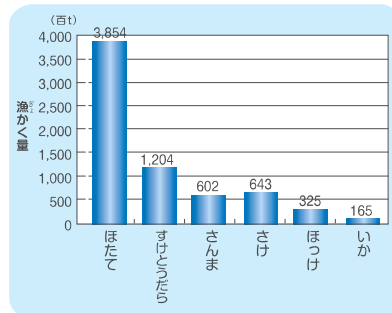
北海道のどこで、どのような作物が作られているか、家畜がかわれているか、魚介類がとれるか、地図帳や資料で調べて地図にまとめました。



北海道の主な農産物と水産物



北海道でつくられるおもな農産物(平成30年)
資料:農林水産省「農林水産統計データ」

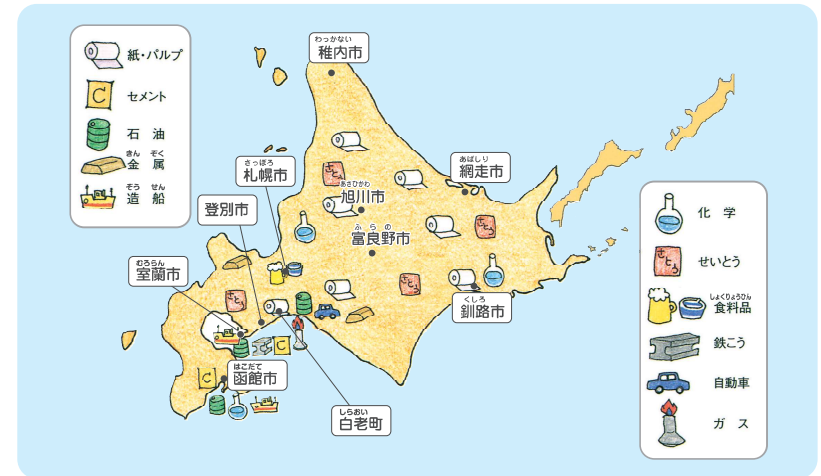


魚種別生産高(水あげが多い魚)(平成30年)
資料:北海道水産林務部「北海道水産現勢(確報)」

5. 北海道の工業と働く人

北海道の工業のさかんな地域について調べよう

北海道の工場で作られている製品についても調べて、地図にまとめました。

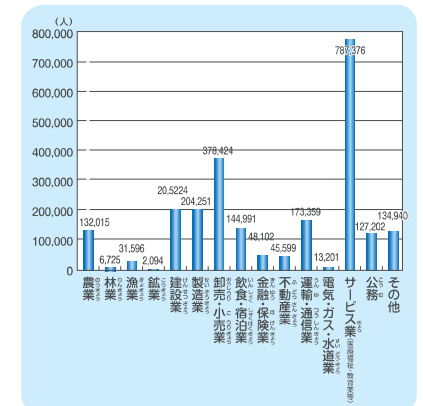


北海道の主な工業製品

すると、北海道にもたくさんの工場があり、特に、新千歳空港のある千歳市や、大きな港のある苫小牧市や室蘭市には、大きな工場が集まっています、たくさんの人たちが工場で働いていることがわかりました。

北海道では、自然や地形のとくちようを生かし、さまざまな仕事が行われています。

働く人は、それぞれの立場から、北海道を元気にしようと願い、努力を続けています。



北海道の人たちの仕事(平成27年)
資料:国勢調査

