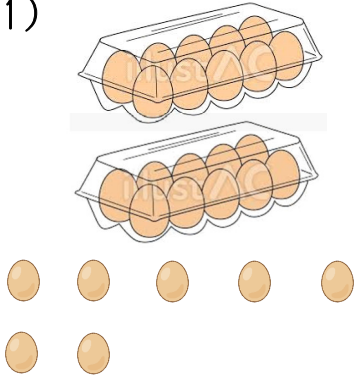


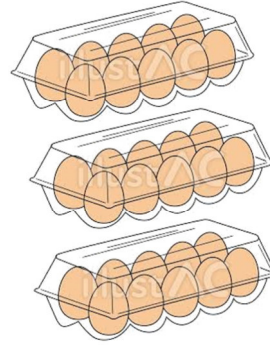
1 かずを すうじで かきましょう。

(1)



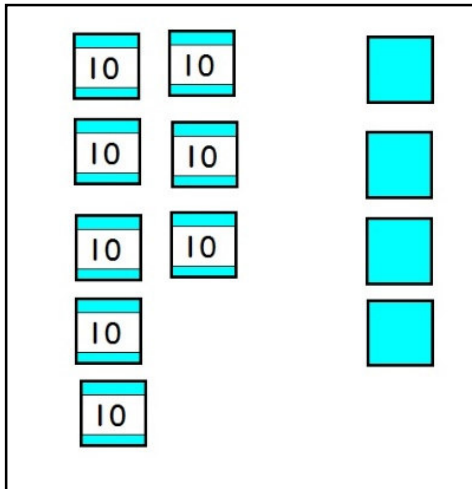
27 こ

(2)



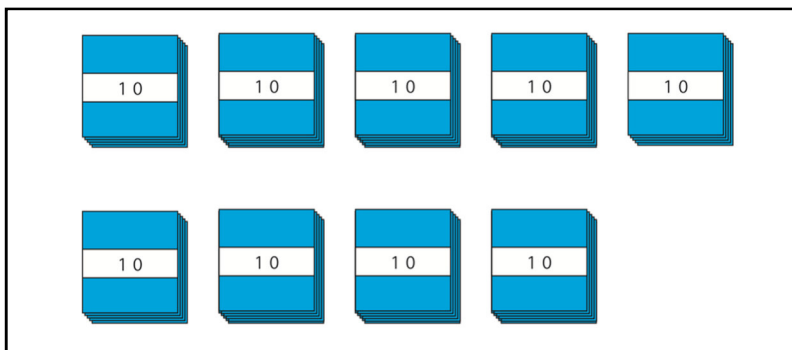
30 こ

(3)



84 まい

(4)



90 まい

<18. 大きい かず>

すうじ でかきましょう。

(1) 十のくらいが 3, 一のくらいが 7の

かずは

(2) 十のくらいが 8, 一のくらいが 0の

かずは

(3) 50の 十のくらいの すうじは  ,

一のくらいの すうじは

(4) 68の 十のくらいの すうじは  ,

一のくらいの すうじは

(5) 10が 6つと 1が 7つで

(6) 10が 4つと 1が 3つで

(7) 10が 9つと 1が 4つで

(8) 48は 10が  つと 1が  っ

(9) 71は 10が  つと 1が  っ

(10) 90は 10が  っ

1 あいている ところに かずを かきましょう。

1	2	3	4	5	6	7	8	9	10
11	12	13	14	15	16	17	18	19	20
21	22	23	24	25	26	27	28	29	30
31	32	33	34	35	36	37	38	39	40
41	42	43	44	45	46	47	48	49	50
51	52	53	54	55	56	57	58	59	60
61	62	63	64	65	66	67	68	69	70
71	72	73	74	75	76	77	78	79	80
81	82	83	84	85	86	87	88	89	90
91	92	93	94	95	96	97	98	99	100

2  に かずを かきましょう。

(1) 10が 10こで

(2) 75より 2 ちいさい かずは

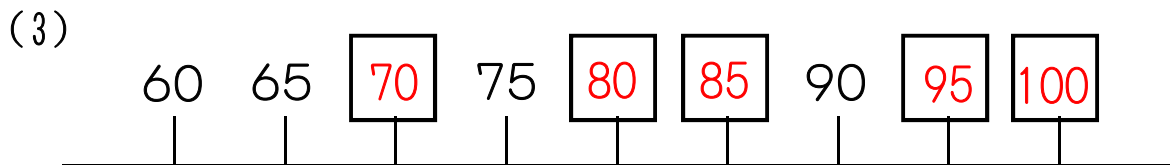
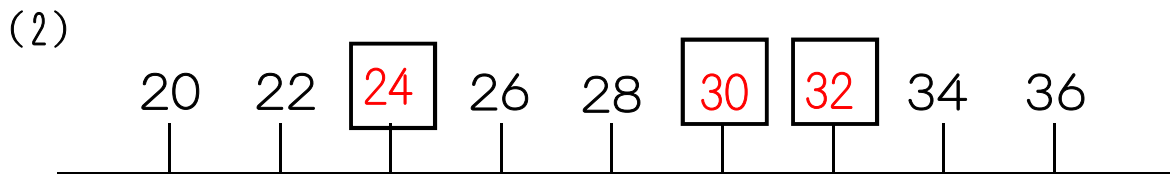
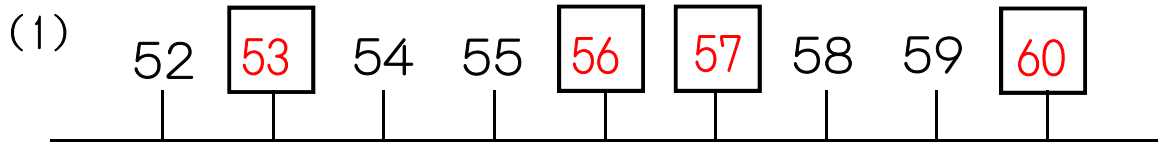
(3) 68より 4 おおきい かずは

<18. 大きい かず>

1 かずの <sup>おお</sup>大きい <sup>まる</sup>ほうに ○を つけましょう。

(1)   (2)   (3)

2  に あてはまる かずを かきましょう。



3 あと いくつで 100に なりますか。

(1) 50  (2) 80

(3) 93  (4) 88

に あてはまる かずを かきましょう。

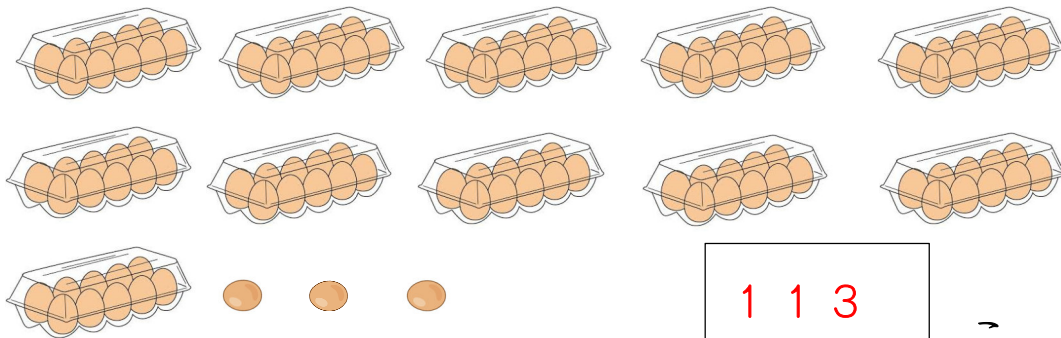
(1) ジュースは いくつ ありますか。



1 0 5

ほん


(2) たまごは いくつ ありますか。



1 1 3

こ

(3) おかねは いくら ありますか。



1 3 4

えん

<18. 大きい かず>

1 あてはまる かずを かきましょう。

(1) 100と 15を あわせた かずは 115

(2) 100と 20を あわせた かずは 120

(3) 100より 17 大きい かずは 117

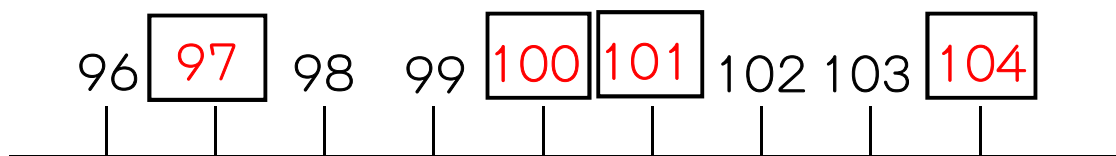
(4) 120より 10 ちいさい かずは 110

(5) 120より 4 大きい かずは 124

2 かずの 大きい ほうに <sup>まる</sup>○を つけましょう。

(1) 99 100 (2) 112 108 (3) 117 120

3  に あてはまる かずを かきましょう。



4 あいている ところに かずを かきましょう。

91	92	93	94	95	96	97	98	99	100
101	102	103	104	105	106	107	108	109	110
111	112	113	114	115	116	117	118	119	120
121	122	123	124	125	126	127	128	129	130

1 なんじなんぶんですか。

①



10 じ 10 ぶん

②



1 じ 42 ぶん

③



4 じ 30 ぶん

2 おなじものを せんで おすびましょう。

①



6:50

②



1:21

③



10:35

④




4:07

<20. おなじ かずずつ>

1 クッキーが 10こ あります。

2人でおなじ かずずつ

わけました。



(1) 1人ぶんは なんこに なりますか。


こたえ 5 こ

(2) しきにかいて たしかめましょう。

$$\boxed{5} + \boxed{5} = 10$$

2 りんごが 12こ あります。

1人に 2こずつ あげました。



(1) なん人に あげられますか。

こたえ 6 人

(2) しきにかいてたしかめましょう。

$$\boxed{2} + \boxed{2} + \boxed{2} + \boxed{2} + \boxed{2} + \boxed{2} = 12$$

3 <sup>かい</sup>貝がらが 8こ あります。ひとりに 4こずつ わけると なん人に わけられますか。

こたえ 2 人



<21. 100までの かずの けいさん>

1 みかんが 40こ あります。

りんごが 30こ あります。

あわせて なんこ ありますか。



しき  $40 + 30 = 70$

こたえ  $70$ こ

2 けいさんを しましょう。

(1)  $40 + 10 = 50$

(2)  $50 + 30 = 80$

(3)  $30 + 60 = 90$

(4)  $10 + 70 = 80$

(5)  $80 + 20 = 100$

(6)  $50 + 50 = 100$

3 いろがみが 80まい あります。

30まい つかいました。

のこりは なんまいに なりますか。



しき  $80 - 30 = 50$

こたえ  $50$ まい

4 けいさんを しましょう。

(1)  $70 - 40 = 30$

(2)  $90 - 80 = 10$

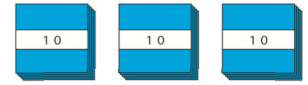
(3)  $60 - 20 = 40$

(4)  $80 - 20 = 60$

(5)  $100 - 30 = 70$

(6)  $100 - 90 = 10$

1 おりがみを 30まい もっています。



6まい もらいました。

あわせて なんまいに なりますか。



しき  $30 + 6 = 36$

こたえ 36 まい

2 けいさんを しましょう。


(1)  $40 + 5 = 45$  (2)  $20 + 8 = 28$  (3)  $36 + 2 = 38$

(4)  $53 + 3 = 56$  (5)  $82 + 7 = 89$  (6)  $94 + 4 = 98$

3 おかしが 24こ ありました。

4こ たべました。

のこりは なんこですか。



しき  $24 - 4 = 20$

こたえ 20 こ

4 けいさんを しましょう。

(1)  $35 - 5 = 30$  (2)  $57 - 7 = 50$  (3)  $48 - 8 = 40$

(4)  $79 - 8 = 71$  (5)  $68 - 3 = 65$  (6)  $97 - 4 = 93$



<22. おおいほう すくないほう>

1 たまいれで、あかぐみは 14こ  
はいりました。しろぐみは  
あかぐみより 6こ すくなかったです。  
しろぐみは なんこ はいりましたか。



あか ● ● ● ● ● ● ● ● ● ● ● ● ● ● ● ●

しろ ○ ○ ○ ○ ○ ○ ○ ○ ○ ○ ○ ○ ○ ○ ○ ○

6こ すくない

しき  $14 - 6 = 8$

こたえ 8こ

2 おらさきの <sup>はな</sup>花が 7本 あります。  
きいろの花は おらさきの花より、  
3本 すくないそうです。  
きいろの花は なん本 ありますか。



しき  $7 - 3 = 4$

こたえ 4本

3 はるきさんと ひとみさんは どんぐりを  
ひろいました。  
はるきさんは 12こ ひろいました。  
ひとみさんは はるきさんより 4こ  
すくなかったそうです。  
ひとみさんは なんこ ひろいましたか。

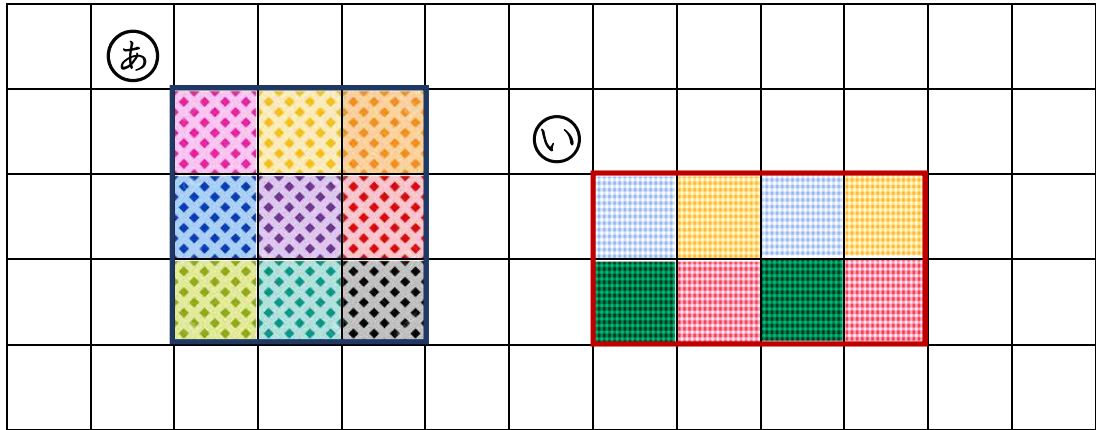


しき  $12 - 4 = 8$

こたえ 8こ

< 23. 大きさをくらべ (2) ひろさ >

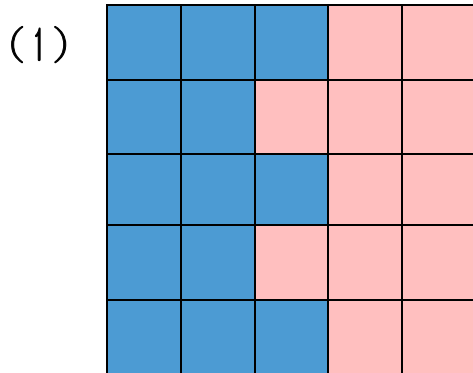
1 ①と②では どちらが ひろい ですか。



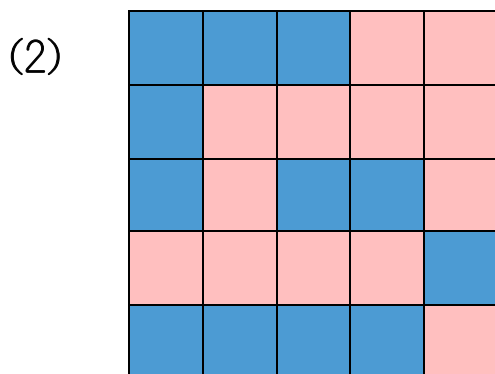
こたえ ①

2 じんとりあそびをしました。

あお ■ と あか ■ では どちらが ひろい ですか。



こたえ あお



こたえ あか

1 25について かんがえました。□にかずをかきましょう。

① 25は 20と 5 を  
あわせた かずです

② 25は 10を 2 こと、  
1を 5 こ あわせた かず  
です。

③ 25は 30より 5  
小さい かずです

④ 25は 24 の つぎの  
かずです。

2 □にかずをかきましょう。

(1) 10が 3こと 1が 9こで 39

(2) 10が 8こで 80

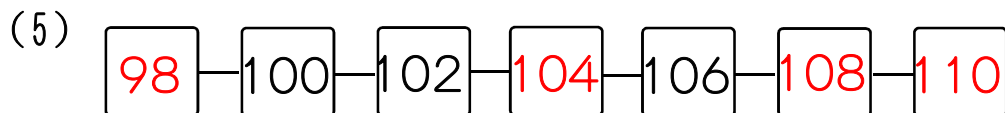
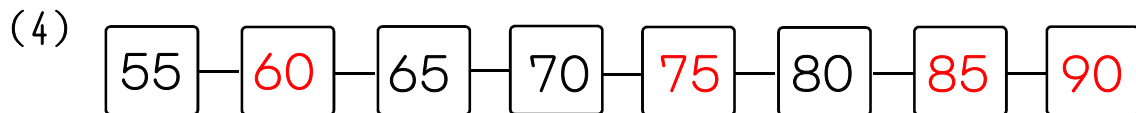
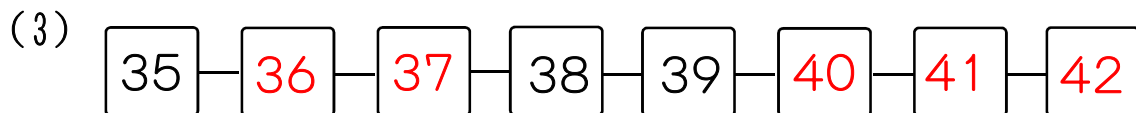
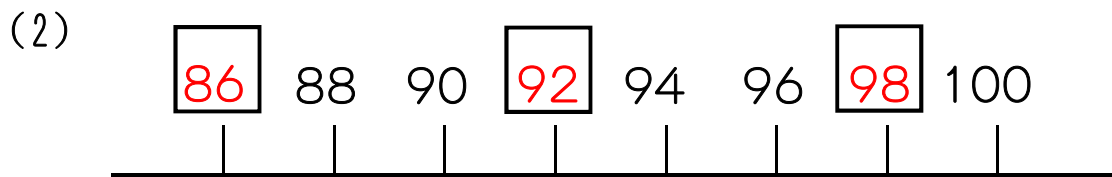
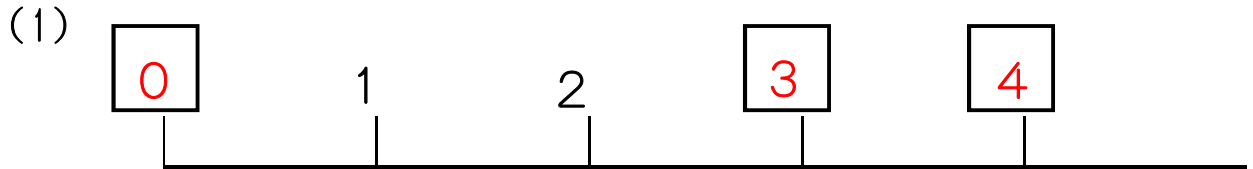
(3) 97は 10が 9 こと 1が 7 こ

(4) 70は 10が 7 こ

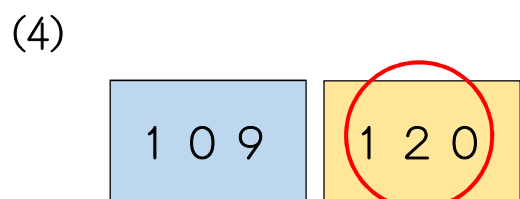
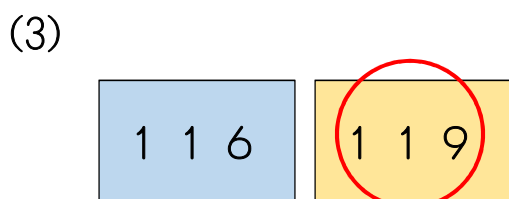
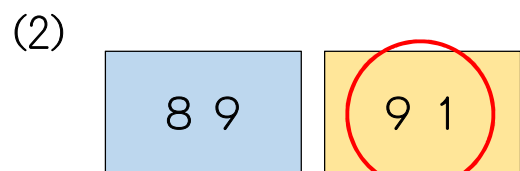
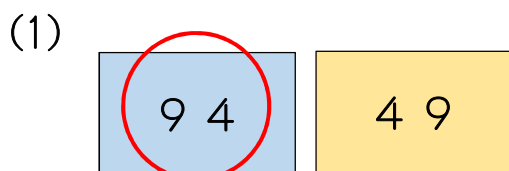
(5) 10が 10こで 100

(6) 100は 99 より 1大きい かず

1  に かずをかきましょう。



2 かずの 大きい ほうに <sup>まる</sup>○ を つけましょう。



1 えをみて きたえましょう。

- (1) まえから 2ばんめの  
どうぶつは なんですか。



まえ

うしろ

きたえ ねこ

- (2) うしろから 3つの どうぶつを かきましょう。

きたえ くま いぬ ねこ

2 けいさんを しましょう。

(1)  $5 + 3 = 8$  (2)  $3 + 4 = 7$  (3)  $4 + 5 = 9$

(4)  $9 + 6 = 15$  (5)  $7 + 5 = 12$  (6)  $8 + 4 = 12$

(7)  $9 + 9 = 18$  (8)  $6 + 8 = 14$  (9)  $8 + 7 = 15$

(10)  $6 - 2 = 4$  (11)  $7 - 5 = 2$  (12)  $8 - 7 = 1$

(13)  $13 - 9 = 4$  (14)  $11 - 8 = 3$  (15)  $14 - 7 = 7$

(16)  $12 - 3 = 9$  (17)  $13 - 5 = 8$  (18)  $16 - 8 = 8$



けいさんを しましょう。

(1)  $7 + 2 = 9$

(2)  $9 + 1 = 10$

(3)  $3 + 6 = 9$

(4)  $9 + 2 = 11$

(5)  $4 + 8 = 12$

(6)  $9 + 8 = 17$

(7)  $6 - 2 = 4$

(8)  $5 - 5 = 0$

(9)  $10 - 1 = 9$

(10)  $11 - 3 = 8$

(11)  $16 - 9 = 7$

(12)  $12 - 5 = 7$

(13)  $2 + 7 + 1 = 10$

(14)  $6 + 4 + 5 = 15$

(15)  $8 - 3 - 2 = 3$

(16)  $10 - 3 - 4 = 3$

(17)  $7 + 3 - 5 = 5$

(18)  $10 - 4 + 3 = 9$

(19)  $40 + 20 = 60$

(20)  $90 + 8 = 98$

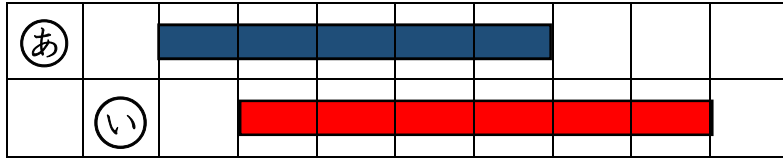
(21)  $51 + 7 = 58$

(22)  $100 - 70 = 30$

(23)  $89 - 9 = 80$


(24)  $49 - 3 = 46$

1 どちらが ながいですか。



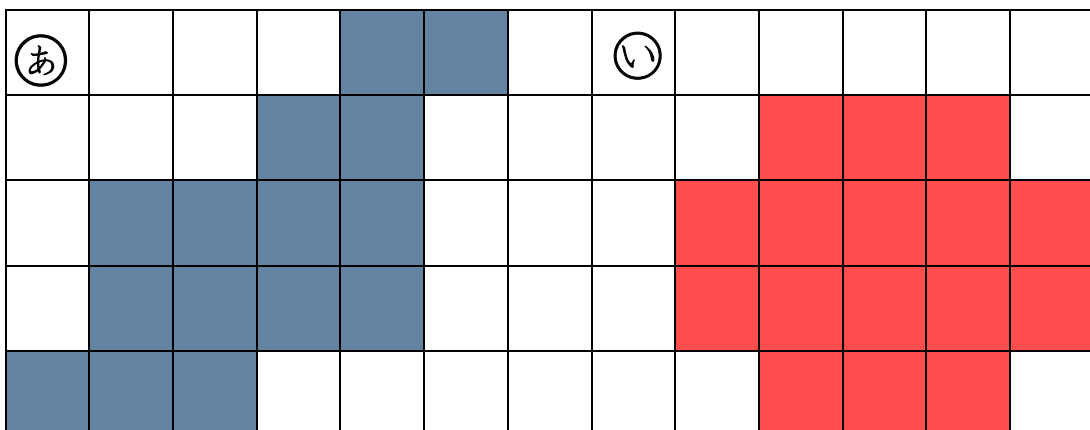
ながいのは  い です。

2 どちらが おおいですか。



おおいのは  あ です。

3 どちらが ひろいですか。



ひろいのは  い です。

1 とけいを よみましょう。なんじなんぷんですか。

①



5 じ 10 ぶん

②




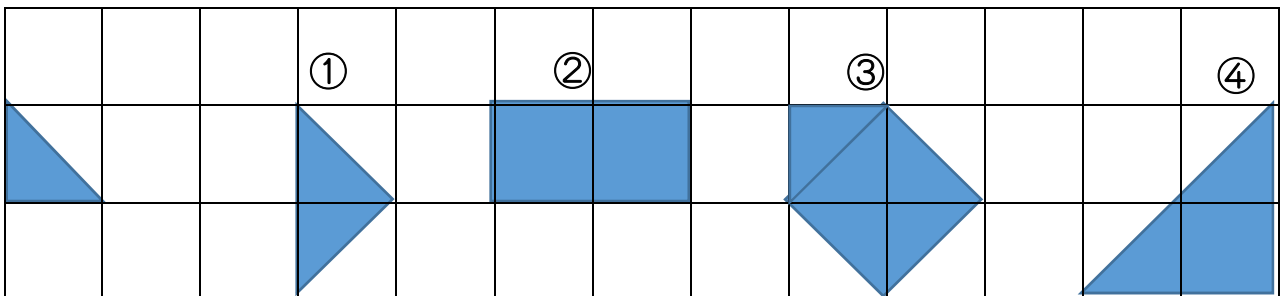
2 じ 30 ぶん

③



9 じ 38 ぶん

2 <sup>した</sup>下の ①～④は  を なんまい つかうと  
できますか。



① 2 まい ② 4 まい ③ 5 まい ④ 4 まい

1 ①と ②は たしざんと ひきざんの どちらに  
なるでしょうか。  に かきましょう。

① クッキーが 9まい  
あります。  
3まい たべると、  
のこりは なんまいに  
なりますか。

ひきざん

② クッキーが 9まい  
あります。  
3まい もらうと、  
ぜんぶで なんまいに  
なりますか。

たしざん

2 いろがみを あいりさんは 9まい、 いもうとは  
3まい もっています。  
あわせて なんまいの いろがみをもっていますか。

しき  $9 + 3 = 12$

こたえ 12まい

3 男の人が 5人、 女の人が 14人 います。  
(1) あわせて なんにん いますか。

しき  $5 + 14 = 19$

こたえ 19人

(2) どちらが なんにん おおいですか。

しき  $14 - 5 = 9$

こたえ 女の人が 9人 おおい

<もう すぐ 2年生>

- 1 こうえんの そうじで そうたさんは あきかんを  
9こ ひろいました。さおりさんは そうたさんより  
8こ おおく ひろいました。  
さおりさんは なんこ ひろいましたか。

しき  $9 + 8 = 17$

こたえ  $17$ こ

- 2 白い チューリップと 赤い チューリップが 15本  
あります。そのうち 白い チューリップは 7本です。  
赤い チューリップは なん本 ありますか。

しき  $15 - 7 = 8$

こたえ  $8$ 本

- 3 ゆうえんちで 人が ならんでいます。  
けんたさんは まえから 5ばんめに います。  
けんたさんの うしろに 9人います。  
みんなで なん人 いるのでしょうか。

しき  $5 + 9 = 14$

こたえ  $14$ 人

- 4 バスに 10人のって いました。ていりゅうじょで  
5人 おりて、3人 のりました。  
バスには、いま なん人のって いますか。

しき  $10 - 5 + 3 = 8$

こたえ  $8$ 人

くもう すぐ 2年生>

- 1 りんごが 8つ あります。2つ たべました。  
そのあと、ともだちに 1つ あげました。  
りんごは いくつに なりましたか。1つの しきに  
して ことえを かきましょう。

しき  $8 - 2 - 1 = 5$

ことえ **5つ**

- 2  $9 - 5 + 3$ の しきに なるような もんだいを  
つくりましょう。

**子どもが 9人で あそんでいます。ようじが あり**

**5人 かえりました。そのあと、3人が きました。**

**ぜんぶで 子どもは なん人に なりましたか。**

こたえの  
れい

- 3  $7 - 3 + 4$ の しきになる もんだいは どれでしょう。  
しきに あう もんだいの ばんごうを かきましょう。

- ① 7にんで あそんでいます。3にん かえりました。  
そのあと 4にん かえりました。あそんでいる ひとは  
なんにんですか。
- ② ばななが 7ほん あります。ともやさんが 3ほん  
たべました。ともだちに 4ほん あげました。ばななは  
ぜんぶで なんほん ありますか。
- ③ くるまが 7だい とまっています。3だい  
しゅっぱつしました。そのあと 4だい きました。  
くるまは ぜんぶで なんだい とまっていますか。

ことえ **③**